

Números Naturais – Adição e Subtração

No âmbito do Estágio em Prática Educativa I, do 1.º ano do Mestrado em Ensino do 1.º Ciclo do Ensino Básico, de Matemática e Ciências Naturais e Português e História e Geografia no Ensino do 2.º Ciclo da Escola Superior, no dia 09 de janeiro de 2023, as professoras estagiárias Maria Alexandra Oliveira Santos e Vanessa Liliana Pinto Lima, propuseram à turma do 2.º ano da Escola Básica de Casconha, a realização do trabalho de casa recorrendo à plataforma Hypatiamat

As tarefas propostas estavam relacionadas com as operações da adição e da subtração.

Os alunos mostraram-se bastante satisfeitos e motivados com a realização das tarefas.

O aluno A, realizou a tarefa no dia 10, em sala de aula, porque não esteve presente quando foi solicitado o trabalho de casa. De seguida foi feita a correção no quadro pelas estagiárias com a colaboração do grupo.

TPC: Testando o Hypatiamat

Nome: [] Turma: []

Adição e subtração - Números Naturais

Questão

Escreve o nome do tipo de número, natural, inteiro e racional. Qual a soma que representa o total das peças de jogo de Xadrez?

- $84 + 2 + 4 = 90$
- $84 + 2 + 14 = 100$
- $84 + 2 + 14 = 100$
- $84 + 2 + 14 = 100$
- $84 + 2 + 14 = 100$

Resposta:

Imagem de peças de xadrez.

TPC: Testando o Hypatiamat

Nome: [] Turma: []

Adição e subtração - Números Naturais

Questão

Escreve o número que completa corretamente a equação.

Resposta: []

$6 + 4 = 2 + \square$

TPC: Testando o Hypatiamat

Nome: [] Turma: []

Adição e subtração - Números Naturais

Questão

Escreve o número que completa corretamente a equação.

Resposta: []

$9 - \square = 2 + 5$

TPC: Testando o Hypatiamat

Nome: [] Turma: []

Adição e subtração - Números Naturais

Questão

Escreve o número que completa corretamente a equação.

Resposta: []

$7 + 13 = 4 + \square$

TPC: Testando o Hypatiamat

Nome: [] Turma: []

Adição e subtração - Números Naturais

Questão

Escreve o número que completa corretamente a equação.

Resposta: []

$\square - 10 = 3$

TPC: Testando o Hypatiamat

Nome: [] Turma: []

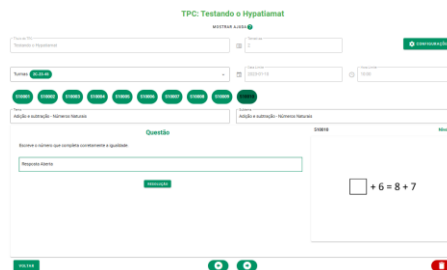
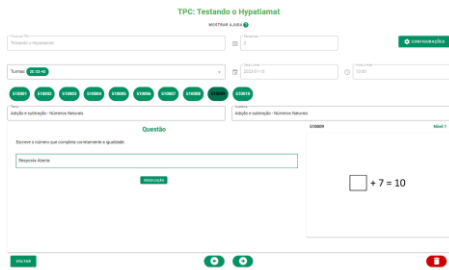
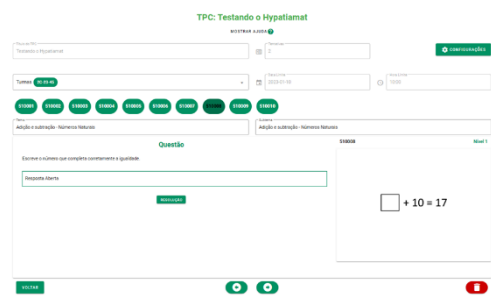

Adição e subtração - Números Naturais

Questão

Escreve o número que completa corretamente a equação.

Resposta: []

$\square + 2 = 13 - 5$



Resultados TPC: Testando o Hypatiamat

MOSTRAR AJUDA ?

Nº	Aluno	Turma	Tentativa Nº	Q. Corretas	Classificação (%)	Respostas
1		2C-23-45	1	8/10	80	🔍
3		2C-23-45	1	10/10	100	🔍
4		2C-23-45	1	8/10	80	🔍
5		2C-23-45	1	9/10	90	🔍
6		2C-23-45	2	10/10	100	🔍
7		2C-23-45	1	9/10	90	🔍
8		2C-23-45	1	9/10	90	🔍
9		2C-23-45	1	10/10	100	🔍
10		2C-23-45	1	9/10	90	🔍
11		2C-23-45	1	10/10	100	🔍
12		2C-23-45	1	10/10	100	🔍
13		2C-23-45	1	9/10	90	🔍
14		2C-23-45	1	8/10	80	🔍
16		2C-23-45	1	10/10	100	🔍
17		2C-23-45	1	9/10	90	🔍
18		2C-23-45	1	10/10	100	🔍
19		2C-23-45	1	3/10	30	🔍
20		2C-23-45	1	9/10	90	🔍
21		2C-23-45	1	9/10	90	🔍
22		2C-23-45	1	10/10	100	🔍

Mostrar 30 1-20 of 20

De um modo geral, verificámos pelos resultados e pela correção, que os alunos conseguiram compreender e fazer operações de adição e subtração e as relações entre estas.

A plataforma foi uma mais-valia pois conduziu os alunos a compreenderem e a aplicarem os sentidos da adição: juntar ou combinar, acrescentar e aos sentidos da subtração: retirar, completar e completar para a realização das tarefas propostas.

[Pelos alunas Maria Alexandra Oliveira Santos e Vanessa Liliana Pinto Lima, do Mestrado em Ensino do 1.º Ciclo do Ensino Básico, de Matemática e Ciências Naturais e Português e História e Geografia no Ensino do 2.º Ciclo da Escola Superior de Coimbra.]